



کاربرگ شماره ۱ نام و نام خانوادگی:

ریاضی: مرور پایه ی سوم

فارسی: مرور پایه ی سوم



۱ احمد در ساعت (۱۰:۳۰) صبح از منزل خارج شد و بعد از ۴ ساعت و ۱۰ دقیقه به منزل بازگشت. او در ساعت (..... :) که می شود (..... :) بعد از ظهر به منزل بازگشت.

۲ با کمک سکه های (۱۰ و ۲۰ و ۱۰۰ ریالی، ۱۶۰ ریال) را به چهار شکل بنویسید.



۳ جاهای خالی را با اعداد مناسب پر کنید.

۲۴۷ سانتی متر یعنی متر و سانتی متر.

۷۳۴۸ متر یعنی کیلومتر و متر.

..... گرم یعنی ۲ کیلوگرم و ۱۲۰ گرم.

۴ حاصل جمع کوچکترین عدد چهار رقمی و بزرگترین عدد سه رقمی چقدر است؟

۵ در یک نصف زمین، درخت های هلو، سیب و آلبالو کاشته ایم. اگر هر کدام به صورت مساوی باشند.

چه کسری از کل زمین را درخت آلبالو کاشته ایم؟



۶ مقدار $\frac{2}{3}$ ، بعد از عدد ۵ را روی محور نشان دهید.



۶ جاهای خالی را با کلمات مناسب کامل کنید.

رفتار یعنی رفتاری که ارزش دارد.

غذای غذایی است که مزه ی خوبی دارد.

در پایان جملات علامت نقطه قرار می گیرد.

بزاز کسی است که می فروشد و محل کار اوست.

۷ غلط های املایی را در جملات زیر مشخص کنید و شکل صحیح آنها را بنویسید.

سعدی ابتدا به بقداد رفت و در آنجا تهصیلات خود را ادامه داد.

پرنده آوازی دل نشین می خواند. بهترین سرودها و نغمه های طبیعت اترافم را پر کرده است.



۸ دور کلمه هایی را که می توان «انه» اضافه کرد خط بکشید.

زن - کودک - مخصوص - قلم - مؤدب

۹ کلمات زیر را مرتب کنید و به صورت جمله ای کامل بنویسید.

مگر - نمی شوید - که - هرگز - ببخشید - اینکه - چیزی را - دوست دارید - به

نیازمندان - سعادت مند

(.....)

ارزیابی عملکرد



ریاضی با تغییر کردن ساعت در بعد از ظهر آشناسنت.



ریاضی با واحد اندازه گیری و اعداد چهار رقمی آشناسنت.



ریاضی با رسم شکل می تواند مسئله را به راحتی حل کند.



ریاضی برای بدست آوردن حاصل ضرب و حاصل تقسیم اعداد می تواند از روش های متفاوت استفاده کند.



فارسی در املاء عملکرد مناسبی دارد.



فارسی نوع جمله ها و علائم نگارشی مناسب هر یک از آنها را تشخیص می دهد.



فارسی با واژه آموزشی آشنایی کامل دارد. جمله های به هم ریخته را به صورت صحیح مرتب می کند.





فارسی

۱) برای بهتر خواندن جمله‌ی زیر کدام نشانه‌ی نگارشی مناسب است؟

امید، خود را معرفی کرد و گفت ● نه ● ما تازه به این محله آمده‌ایم ● امیدوارم بتوانم دوستان جدیدی در اینجا پیدا کنم ● راستی ● نگران به نظر می‌رسی ● مشکلی پیش آمده ● ● ●

۲) اجزای جملات زیر را مشخص کنید. (فعل، فاعل، مفعول و زمان فعل ها) را بنویسید.

بچه‌های باغ همیشه بهار، علی اصغر را می‌شناسند.

مادرم و من از پاساژ، یک پارچه‌ی زیبا خریدیم.

۳) برای جملات زیر قید زمان مناسب بنویسید.

من دیگر به کلاس پنجم خواهم رفت.

آموزگار از دانش‌آموزان، علوم پرسید.

والدینم با هواپیما از سفر مشهد برمی‌گردند.

۴) در جملات زیر صفت را مشخص کنید.

دختر خانم صابری هنرمند است.

دیروز به باغ پدربزرگ رفتم، آنجا خیلی باصفا بود.

۵) جملات زیر را به زمان‌های خواسته شده تغییر دهید.

چهار سال پیش پدربزرگم در روز عید قربان یک گوسفند قربانی کرد. (آینده)

امروز به مناسبت روز معلم، برای معلم خود جشن می‌گیریم. (گذشته)



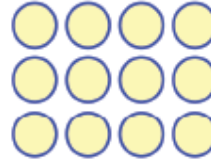
۷) در جاهای خالی عدد مناسب بنویسید.

$$7 \times 5 = (\dots \times 5) + (2 \times \dots) = \dots + \dots = \dots$$

$$9 \times 4 = (\dots \times \dots) + (\dots \times \dots) = \dots + \dots = \dots$$

۸) در یک کلاس، ۴ گروه سه نفره به فوتبال علاقه دارند. و در کلاس دیگر ۵ گروه سه نفره به فوتبال

علاقه دارند. در این دو کلاس چند نفر علاقمند به فوتبال هستند؟

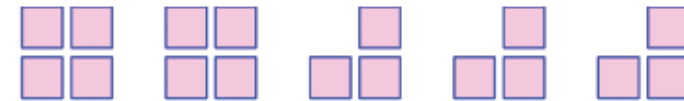


۹) برای شکل روبرو، یک ضرب و یک تقسیم بنویسید.

۱۰) قطر های شکل های زیر را رسم کنید. و بگویید کدام شکل قطر بیشتری دارد؟



۱۱) با کمک جمع و ضرب بنویسید که در شکل زیر چند مربع وجود دارد.



$$(\dots \times \dots) + (\dots \times \dots) = \dots + \dots = \dots$$

۱۲) عددی را سه برابر کرده و با ۱۰ جمع کرده ایم. جواب ۳۴ شده است. این عدد چند بوده است؟





کاربرگ شماره ۴ نام و نام خانوادگی:

فارسی: درس ۳
ریاضی: فصل ۲
علوم: درس ۳

هدیه: درس ۴
مطالعات: فصل ۱



۱) معنی هر کدام از واژه های هم آوای زیر را بنویسید.

قالب:	خویش:	ارض:
غالب:	خیش:	عرض:

۲) شکل صحیح کلمات داخل پرانتز را با توجه به معنای آنها در جاهای خالی به کار ببرید.

آب مایه ی است. (حیات، حیاط)

گل با ارزش هست ولی اطراف آن است. (خار، خوار)


پایه و همه ی گفت و گوها در کلاس درس. توانایی علمی شاگردان است. (اثاث، اساس)

۳) در هر کدام از جمله های زیر املاهای کدام شکل از واژه درست است؟ دور آن خط بکشید.

رضا امروز (قضا - غذا) نخورد. مادرم دیروز (حیات - حیاط) را شست.

علی قندها را (خورد - خرد) کرد. زهرا هفت (خوان - خان) رستم را خوانده است.

۴) چرا مرد صاحب الاغ، پس از شنیدن حرف های پسر پیش حاکم، از او معذرت خواهی کرد؟



۵) دو مورد از تفاوت های متن علمی و ادبی را بنویسید.

هدیه های آسمان



۱) در چه وقت هایی خواندن نماز آیات بر مسلمانان واجب می شود؟

۲) نماز آیات چند رکعت است؟ و در هر رکعت چند رکوع دارد؟

۳) نماز آیات چگونه خوانده می شود؟



۴) پیامبر (ص) درباره خورشید گرفتگی چه فرموده اند؟

مطالعات اجتماعی



درستی و نادرستی هر یک از عبارت های زیر را با علامت و مشخص کنید.

در زمان استرحت همسایه ها نباید در کوچه توپ بازی یا در خانه سر و صدا کنیم.

ما اجازه داریم در خانه ی خود صدای رادیو و تلویزیون را بلند کنیم.

به پولی که برای کالاهای مورد نیاز خرج می کنیم، هزینه می گویند.

نقشه ها در پیدا کردن مکان ها به ما کمک می کنند.

مسجد فقط مکانی برای عبادت است.

ارزیابی عملکرد



فارسی کلمات را از نظر املايي می شناسد و با کلمه های هم آوا و معنی آنها آشناست.



ریاضی با انواع کسرها و اعداد مخلوط آشناست و می تواند مسئله های مربوط به آن را به درستی حل کند. و روی شکل و محور نشان دهد.



علوم منابع و انواع انرژی را به خوبی می شناسد.



هدیه در مورد نماز آیات اطلاعات دارد.



مطالعات فصل اول را به خوبی درک کرده است.



ریاضی

۱ هر یک از عددهای زیر را خوانده و با حروف بنویسید.

$\frac{3}{20}$ (.....) $\frac{8}{32}$ (.....) $\frac{6}{8}$ (.....)

$2\frac{4}{6}$ (.....) $3\frac{1}{5}$ (.....) $5\frac{3}{7}$ (.....)

۲ هر یک از موارد زیر را روی محور اعداد نشان دهید.

الف) $\frac{3}{4}$ واحد بعد از عدد ۲ ب) $\frac{1}{4}$ واحد بعد از عدد ۳ ج) $\frac{4}{5}$ واحد بعد از عدد ۴



۳ هر یک از موارد زیر را با یکدیگر مقایسه کنید.

$\frac{17}{435}$ $\frac{17}{425}$ $\frac{24}{110}$ $\frac{24}{100}$ $\frac{3}{50}$ $\frac{3}{500}$

۴ چه کسری از شکل های زیر به رنگ قرمز و چه کسری از آنها به رنگ زرد می باشند؟



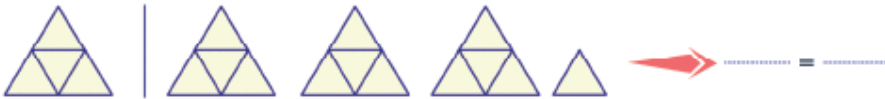
رنگ قرمز: رنگ قرمز: رنگ قرمز: رنگ قرمز:

رنگ زرد: رنگ زرد: رنگ زرد: رنگ زرد:



۵ برای هر یک از شکل های زیر، یک عدد مخلوط و یک کسر بنویسید.

واحد



علوم

۱ چند نوع انرژی را نام ببرید.

۲ آیا وقتی گرسنه اید می توانید در مسابقه ی دو میدانی برنده شوید؟ چرا؟

۳ چهار منبع انرژی را نام ببرید.

۴ انرژی حرکتی چیست؟

۵ انرژی باد را در چه مواردی می توان استفاده کرد؟



کاربرگ شماره ۱۲ نام و نام خانوادگی:

فارسی: درس ۶
ریاضی: فصل ۳
علوم: درس ۶

هدیه: درس ۸
مطالعات: درس ۹



۱ جاهای خالی شعر حفظی (باران) را کامل کنید.

برق چون شمشیر بران

تندر دیوانه ، غُران

جنگل از باد گریزان

دانه های گرد باران

۲ معنی شعر زیر را بنویسید.

می شنیدم اندر این گوهر فشانی رازهای جاودانی پند های آسمانی

پیش چشم مرد فردا زندگانی، خواه تیره، خواه روشن هست زیبا

۳ نویسنده ی هر کدام از اثرهای زیر را بنویسید.

داستان انتظار: (.....) شعر باران: (.....)

داستان قدم یازدهم: (.....) داستان رهایی از قفس: (.....)

۴ در شعر (باران)، دویدن کودک به دیدن چه چیزی مانند(تشبیه) شده است ؟

۵ پیام شعر (باران) را بنویسید.

هدیه های آسمان



۱ امام رضا (ع) درباره ی ثواب زیارت حرم خودشان چه فرموده اند؟



۲ چرا مأمون، امام رضا (ع) را از مدینه به خراسان آورد؟

۳ نام چند شهر که امام رضا (ع) در مسیر مدینه تا خراسان از آنها عبور کردند را بنویسید.

۴ دَعْبِل که بود؟ و وقتی پرسید: (مرقدی که در شهر طوس است، مال کیست؟) امام رضا (ع) چه جواب دادند؟

مطالعات اجتماعی



۱ اولین شهرها چگونه به وجود آمدند؟



۲ تمدن های باستانی را در گذشته نام ببرید.

۳ ویژگی های سرزمین هایی که در آنها تمدن به وجود آمد چه بود؟

ارزیابی عملکرد

فارسی معنی عبارت ها را می تواند بیان کند. با توجه به مفهوم درس می تواند به سوال ها پاسخ دهد. شعر ها را به درستی حفظ می کند.

ریاضی با قوانین تقریب آشناست و می تواند مسئله های مربوط به آن را به درستی حل کند. و می تواند حاصل اعداد را از روش تقریب به دست آورد.

علوم می تواند سنگ های گوناگون را بر اساس ویژگی آنها طبقه بندی کند.

هدیه در مورد زندگی امام رضا (ع) و دَعْبِل اطلاعات دارد.

مطالعات در مورد ویژگی های اولین شهر ها و تمدن ها اطلاعات دارد.

۷ در یک فروشگاه، ۳۸ جعبه ی ۲۴ تایی مداد رنگی وجود دارد. حساب کنید به طور تقریبی چند تا مداد رنگی در این فروشگاه موجود است؟



۸ محصول میوه ی یک باغ در جدول زیر آمده است. مقدار تقریبی هر محصول چند تن است؟

نام میوه	وزن دقیق (کیلوگرم)	وزن تقریبی (تن)
سیب	۴۸۲۱۶	
گلابی	۷۴۱۰	
هلو	۷۶۹۲۱	
زردآلو	۵۵۰۰	



۱ سنگ ها به چند دسته تقسیم می شوند؟ نام ببرید



۲ سنگ ها از چه نظر تفاوت دارند؟

۳ سنگ های داخل رودها، در مسیر حرکتی خود چه تغییراتی پیدا می کنند؟



۴ سنگ های رسوبی چه ویژگی هایی دارند؟

۵ چه عواملی باعث می شود سرعت و مقدار رسوب گذاری در دریا بیشتر شود؟



۱ حاصل تقریبی عبارت های زیر را به دو روش به دست آورید.



$$\diamond 91 - 54 + 35 =$$

$$\diamond 34 \times 19 =$$

۲ مقدار تقریبی خارج قسمت تقسیم های زیر را پیدا کنید.

$$\text{✿ } 767 \overline{) 20}$$

$$\text{✿ } 551 \overline{) 3}$$

۳ هر یک از جرم های زیر تقریباً چند تن است؟

✿ ۱۵۷۵۰ کیلوگرم

✿ ۹۲۷۰ کیلوگرم

۴ هر یک از عددهای زیر را با تقریب هزارگان به نزدیکترین عدد تقریب بزنید.

✿ ۵۷۲۱ \rightarrow

✿ ۸۴۱۰ \rightarrow

۵ هر یک از اعداد زیر را به طور تقریبی روی محور زیر نشان دهید.

۷۸ ۱۰۷ ۱۹۰ ۴۹۱ ۶۰۷



۶ حاصل ضرب تقریبی اعداد زیر را حساب کنید.

$$\begin{array}{r} 968 \\ \times 315 \\ \hline \end{array}$$

$$\begin{array}{r} 725 \\ \times 490 \\ \hline \end{array}$$



کاربرگ شماره ۱۸ نام و نام خانوادگی:

فarsi: درس ۱۱
ریاضی: فصل ۴
علوم: درس ۹

هدیه: درس ۱۲
مطالعات: فصل ۱۴



۱. معنی کلمات زیر را بنویسید.
آتشبارهای بعضی یک دم، خاموش نمی شدند.
شلمچه این بار برایشان نه گذرگاه، که گورستانی شده بود.
به دعایی که از لب های آنان جاری می شد، اعتقاد عجیبی داشت.

۲. جاهای خالی را با یکی از واژه های داخل کمانک پر کنید.
حسین چند روز داشت. (مرخصی - مرخصی)
مرد، مسئولیت سنگینی بر داشت. (اعده - عهده)
اشک های حسین موهای خاک آلود او را کرد. (خیص - خیس)
جدول زیر را کامل کنید.

معنی	واژه ی جدید	پذیر	واژه
		+	
		+	
		+	

۴. پیام درس فرمانده دل ها را بنویسید.

هدیه های آسمان



۱. آیه ی (جاءَ الْحَقُّ وَ زَهَقَ الْبَاطِلُ إِنَّ الْبَاطِلَ كَانَ زَهُوقًا) نشان دهنده ی کدام وعده ی خداوند به انسان می باشد؟



۲. موعود به چه معناست؟
۳. وقتی حضرت مهدی (عج) ظهور می کند؛ با خود چه هدیه هایی می آورد؟
۴. چرا بعد از به زبان آوردن نام حضرت مهدی، می گویم «عَجَلَ اللهُ فَرَجَهُ»؟

مطالعات اجتماعی



۱. آثار موجود در کرمانشاه مربوط به چه دوره هایی است؟
۲. در طاق بستان چه آثاری وجود دارند؟
۳. کارهای مهم خسرو انوشیروان را بیان کنید.
۴. کارهای مهم شاپور اول را بنویسید.

ارزیابی عملکرد

فارسی: پیام درس را درک کرده است. معنی واژه های ترکیب شده با (پذیر) را می داند. معنی عبارت ها را می تواند بیان کند.
ریاضی: با قوانین اندازه گیری زمان آشناست. و می تواند مسئله های مربوط به آن را به درستی حل کند. می تواند نمودار زمان را رسم کند.
علوم: در مورد سؤال ها و روش رشد بدن ما اطلاعات دارد.
هدیه: در مورد امام زمان (عج) و فواید ظهور ایشان اطلاعات دارد.
مطالعات: با کرمانشاه و آثار آن آشناست.

ریاضی

۱ هر یک از زمان های زیر را به صورت تقریبی بنویسید.

۶ ساعت و ۲۰ دقیقه	۸ ساعت و ۵۰ دقیقه
۵ دقیقه و ۳۸ ثانیه	۷ دقیقه و ۱۵ ثانیه

۲ در جاهای خالی عدد مناسب بنویسید.

۸۰ ثانیه یعنی: دقیقه و ثانیه	۶۵ دقیقه یعنی: ساعت و دقیقه
۲۵۰ ثانیه یعنی: دقیقه و ثانیه	۱۷۰ دقیقه یعنی: ساعت و دقیقه

۳ زمان های خواسته شده ی زیر را بنویسید.

۵ دقیقه ی قبل :	۲۵ دقیقه ی بعد : ۵ : ۳۵
۲ ساعت و ۲۰ دقیقه ی بعد :	۴۵ دقیقه ی بعد : ۱ : ۳۰
۱ ساعت و ۱۰ دقیقه ی قبل :	۲ ساعت و ۳۰ دقیقه ی بعد : ۱ : ۳۰

۴ محمد ساعت (۱۷:۴۰) از خانه خارج شد تا برای دیدن مسابقات کشتی که ساعت (۱۸:۳۰) آغاز می شود، خود را به ورزشگاه برساند. اما به دلیل ترافیک، بعد از یک ساعت و سی دقیقه به ورزشگاه رسید. محمد

چه ساعتی به ورزشگاه رسیده است؟ او چند دقیقه تأخیر داشته است؟



۵ فیلمی ساعت (۸:۳۰) شروع و ساعت (۱۰:۴۰) تمام می شود. این فیلم چند دقیقه است؟

۶ زهرا ساعت (۷:۵۰) از خانه خارج شد. او بعد از ۴۰ دقیقه پیاده روی بازگشت. زهرا چه ساعتی به خانه برگشته است؟



۷ حسین ساعت (۱۵:۳۵) از آموزشگاه نقاشی خارج شد و ساعت (۱۶:۵۵) به خانه رسید. او چند دقیقه در راه بوده است؟

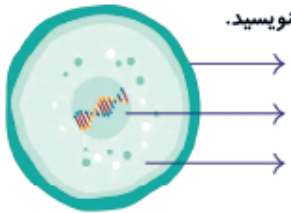


علوم

۱ درستی و نادرستی هر یک از عبارات های زیر را با علامت و مشخص کنید.

- ◆ مواد جذب نشده به روده ی بزرگ می روند.
- ◆ موقع رشد بدن سلول ها بزرگتر می شوند.
- ◆ سلول های روی پوست همیشه زنده هستند.

۲ سلول را تعریف کرده و نام قسمت های مختلف آن را در شکل زیر بنویسید.



۳ وقتی سلول های قسمتی از بدن می میرند چگونه بهبود پیدا می کنند؟

۴ سلول ها چگونه رشد نموده: تقسیم شده و زیاد می شوند؟

کاربرگ شماره ۲۴ نام و نام خانوادگی:

فارسی: درس ۱۴
ریاضی: فصل ۶
علوم: مرور

هدیه: مرور
مطالعات: درس ۱۹



۱) معنی هر یک از واژه های زیر را بنویسید.

غازی: عطار: پرهیز:

مُشک: پرهیز: طَبَله:

۲) در هر یک از عبارات های زیر جاهای خالی را با کلمه ی مناسب از داخل کمانک پر کنید.

نادان چون طَبَلِ غازی، بلند آواز و میان است. (تهی - تحی)

عالم بی عمل، به چه مانند؟ به زنبور (بی عمل، بی عمل)



۳) معنی هر یک از جمله های زیر را بنویسید.

مُشک آن است که خود بپوید؛ نه آنکه عطار بگوید.

دو کس، رنج بیهوده بُردند و سعی بی فایده کردند: یکی آن که اندوخت و نخورد و دیگر آن که آموخت و نکرد.

لقمان را گفتند: ادب از که آموختی؟ گفت: از بی ادبان، هر چه از ایشان در نظرم ناپسند آمد از آن پرهیز کردم.

۴) برای هر یک از جملات زیر، نمودار رسم کنید.

لقمان رفتار بی ادب را نپسندید.	دو کس رنج بیهوده بردند.	سحر مادرش را دید.

هدیه های آسمان

۱) درستی و نادرستی هر یک از عبارات های زیر را با علامت و مشخص کنید.

ثروتمند ترین زن مگه حضرت خدیجه (س) بود.

کوه حرا، معروف ترین کوه در سرزمین عربستان است.

شهید عباس بابایی و شهید علی صیاد شیرازی در کودکی نیز به فکر دیگران بودند.

۲) جاهای خالی را با کلمات مناسب پر کنید.

خدا فرمان می دهد که را به صاحبش بازگردانید.

حضرت علی (ع) می فرمایند: برترین نیکی، است.



مطالعات اجتماعی

۱) زیستگاه را با مثال توضیح دهید.

۲) جانوران از نظر غذایی چند دسته اند؟ توضیح دهید.



۳) چرا در بعضی از فصل ها شکار جانوران یا صید ماهی در بعضی جاها ممنوع است؟

ارزیابی عملکرد

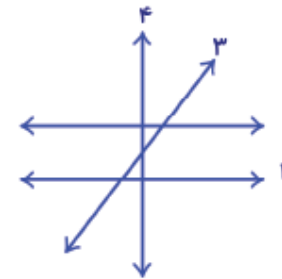
فارسی	بیان کند
ساختار جمله ها را می شناسد. و می تواند برای آن جمله، نمودار بکشد. معنی عبارات ها را می تواند بیان کند.	😊😊😊😊😊
با قوانین وضعیت دو خط نسبت به هم آشناست. و می تواند مسئله های مربوط به خط های موازی و عمود را به درستی حل کند.	😊😊😊😊😊
با انواع جانداران و دسته بندی آنها آشناست و تفاوت بین آنها را می داند.	😊😊😊😊😊
برای آزمون نیمسال دوم آمادگی دارد.	😊😊😊😊😊
با انواع زیستگاه ها و جانوران آنها آشناست	😊😊😊😊😊

ریاضی

۱) بر هر یک از خط‌ها، از نقطه‌ی مشخص شده خط عمود رسم کنید.

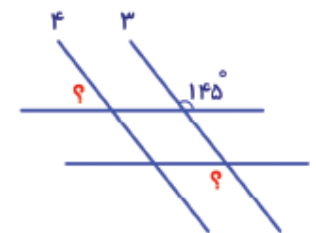


۲) با توجه به شکل، درستی و نادرستی هر یک از عبارات زیر را با علامت و مشخص کنید.



- خط ۳ بر خط ۱ عمود است.
- خط ۴ بر خط ۲ عمود است.
- خط ۳ بر خط ۲ عمود است.
- خط ۱ و ۲ نسبت به هم موازی هستند.

۳) اندازه‌ی زاویه‌های خواسته شده را پیدا کنید. (خط ۱ با خط ۲) و (خط ۳ با خط ۴) موازی اند.



۴) شکل‌های هندسی خواسته شده را در محل مشخص شده رسم کنید.

فقط دو خط موازی دارد.	چهار زاویه‌ی راست دارد.	ضلع‌ها دو به دو موازی هستند. اما عمود نیستند.

۵) دو خط موازی هم، رسم کنید.

۶) هر کدام از شکل‌های زیر که خط عمود بر هم دارند را رنگ کنید.



علوم

۱) جانوران زیر را نام گذاری کرده و طبقه بندی نمایید.



نام جانوران	دسته

۲) تفاوت‌های این دو جانور را شرح دهید.



.....

.....

.....



کاربرگ شماره ۲۸ نام و نام خانوادگی:

فارسی: درس ۱۲ هدیة: درس ۱۹
 ریاضی: فصل ۷ مطالعات: درس ۲۲
 علوم: درس ۱۳



۱ درست و نادرستی هر یک از عبارت های زیر را با علامت و مشخص کنید.



- برای نوشتن روی تخته ی هوشمند از گچ استفاده می شود.
- بچه ها به کمک نرم افزار آموزشی تمرین های درس را انجام دادند.
- مدرسه ی هوشمند، برای اطلاع رسانی به اولیاء بسیار سریع عمل می کند.

۲ جاهای خالی شعر حفظی (نیایش) را کامل کنید.

صفاتِ ذاتِ تو بر لفظ خوانم
 خداوندا، تویی حامی و ناظر

۳ غلط های املائی متن زیر را مشخص کرده و شکل صحیح آنها را بنویسید.

بنفشه به مهتاب گفت: «روی تخته ی هوشمند، می توانی هر چیزی را به هر رنگی که دوست داری، نقاشی

کنی. با پرکار هوشمند، می توانی دایره رسم کنی یا با نغاله ی هوشمند، زاویه ها را اندازه گیری کنی؛

درست مثل پرکار و خط کش واقعی.»



۴ جدول زیر را کامل کنید.

واژه	نده	واژه ی جدید	معنی
یاب	+ =		
جوی	+ =		
دو	+ =		

هدیه های آسمان



۱ آیه های (وَجُودٌ يَوْمَئِذٍ نَّاصِرَةٌ)، (وَجُودٌ يَوْمَئِذٍ نَّاصِرَةٌ) (برخی چهره ها شاد هستند)، (برخی چهره ها غمگین هستند). در مورد چه روزی است؟ توضیح دهید.

۲ دنیا مزرعه ی آخرت است یعنی چه؟

مطالعات اجتماعی



۱ علت تعطیلی بعضی روزها غیر از جمعه چیست؟



۲ روزهای تعطیل ایران به جز جمعه ها چند دسته است؟

۳ آیا تعطیلی هایی که به مناسبت های دینی وجود دارد فقط مخصوص ایران است؟

ارزیابی عملکرد

فارسی	ریاضی	علوم	هدیه	مطالعات
درست یا نادرست بودن عبارت را با توجه به مفهوم متن می تواند تشخیص دهد. پیام درس را درک کرده است. شعر ها را به درستی حفظ می کند. کلمات را از نظر املائی می شناسد.	با قوانین رسم نمودار خط شکسته و جدول داده ها آشناست. و می تواند به سؤال های مربوط به نمودار به درستی پاسخ دهد.	با سطحیم زنجیر- ی شدایی و هبکه ی شدایی آشناست.	در مورد روز قیامت اطلاعات دارد. و مفهوم (دنیا مزرعه ی آخرت است) را می داند.	در مورد روزهای تعطیلی در تقویم اطلاعات دارد.
😊😊😊😊	😊😊😊😊	😊😊😊😊	😊😊😊😊	😊😊😊😊



ریاضی

۱ قیمت هر بطری شیر در طی ۱۲ هفته در جدول زیر آورده شده است. با توجه به جدول، نمودار خط شکسته ی قیمت شیر را رسم کرده و به سؤالات مربوطه پاسخ دهید.



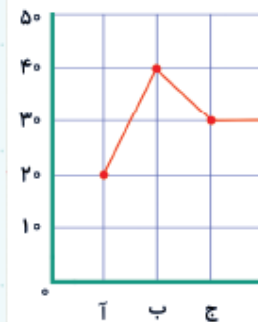
هفته	۱	۲	۳	۴	۵	۶	۷	۸	۹	۱۰	۱۱	۱۲
قیمت (به تومان)	۵۰۰	۵۵۰	۵۷۵	۶۰۰	۶۲۰	۶۵۰	۹۵۰	۹۷۰	۸۵۰	۸۰۰	۸۰۰	۸۵۰

در بین کدام هفته ها تغییرات قیمت شیر بیشتر بوده است؟

قیمت شیر از کدام هفته شروع به کم شدن کرده است؟

در هفته های ۱۰ و ۱۱ برای قیمت شیر چه اتفاقی افتاده است؟

با توجه به این نمودار، پیش بینی کنید که در هفته ی ۱۳ چه اتفاقی می افتد؟



۲ با توجه به نمودار روبه رو به سؤالات پاسخ دهید.

نام نمودار چیست؟

مفهوم هر یک از حالت های (—●—) و (—○—) و (—○—) چیست؟

تفاوت این نمودار با نمودر ستونی را بنویسید.

۳ امتیاز سعید در یک سال تحصیلی به شرح زیر بوده است.

اطلاعات مربوط به امتیاز سعید را، هم در جدول و هم در نمودار خط شکسته وارد کنید.

ماه مهر: ۱۲ ماه آبان: ۱۴ ماه آذر: ۱۵ ماه دی: ۱۷ ماه بهمن: ۱۴ ماه اسفند: ۱۶

علوم

۱ زنجیره ی غذایی چیست؟

۲ با توجه به شکل حیوانات، به سؤالات زیر پاسخ دهید.

زنجیره های غذایی مربوط به شکل را رسم کنید؟

کدام موجودات بین دو یا چند زنجیره، مشترک هستند؟

تولید کننده های اولیه و مصرف کننده های نهایی در این زنجیره ها را تعیین کنید؟

مجموعه ی زنجیره هایی که رسم کرده اید، چه نامیده می شوند؟

