

مهارت‌های تابستانه

ویژه ی دانش آموزان

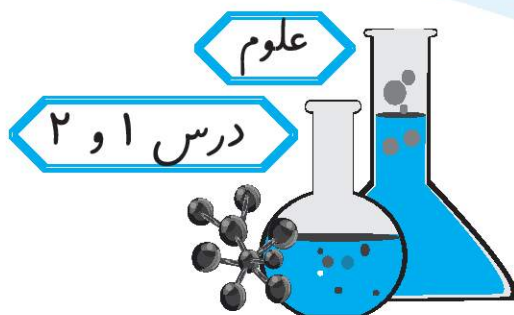


دوم دبستان

ورودی سوم دبستان





هر که می‌خواهد که قوی‌ترین مردم باشد، بر خدا توکل نماید.
امام موسی کاظم (ع)
مؤمن همانند کفهی ترازوست که هرچه بر ایمانش افزوده
شود بر بلاها و سختی‌هایش افزوده گردد.
امام صادق (ع)





- با اضافه کردن « هم » به اوّل بعضی از کلمه‌ها ، می‌توان کلمه‌ی بامعنی ساخت.
مانند: هم + گروه \leftarrow هم گروه هم + فکر \leftarrow هم فکر
- با توجه به معنی جمله و کلمه گاهی به آخر کلمات « ای » یا « ی » ، اضافه می‌کنیم.
مانند : دیروز مجله‌ای خریدم. نماینده‌ی یکی از گروه‌ها به سؤال پاسخ داد.
- می‌توانیم با اضافه کردن « با » یا « بی » به ابتدای بعضی کلمات ، کلمات تازه‌ای بسازیم.
مانند : با + هوش \leftarrow باهوش : یعنی کسی که هوش زیادی دارد.
بی + ایمان \leftarrow بی‌ایمان : یعنی کسی که ایمان ندارد.
- نشانه‌ی (و) در کلماتی مانند : گاو ، وزنه ، صدای « و » می‌دهد.
در کلماتی مانند : دود ، گردو ، صدای « او » می‌دهد ، در کلماتی مانند: نو ، جو ، صدای « ا » می‌دهد ، در کلماتی مانند : خواستن ، خوابیدن صدایی ندارد.
- زمانی که می‌خواهیم از کسی چیزی بپرسیم در پایان جمله علامت پرسش (؟) می‌گذاریم.
گاه با کلمه‌های پرسشی « چرا ، آیا ، کدام و ... » می‌توانیم جمله را پرسشی کنیم.
- در پایان بیشتر جمله‌هایی که پرسشی نیستند ، نقطه (.) می‌گذاریم.



- جمع یعنی اضافه کردن یک عدد به عدد دیگر
- تفریق یعنی برداشتن و کم کردن عدد کم‌تر از عدد بیش‌تر
- کوچک‌ترین عدد یک رقمی صفر و بزرگ‌ترین عدد یک رقمی ۹ است.
- ۵ ده‌تایی و ۳ یکی را به صورت ۵۳ می‌نویسیم و می‌خوانیم پنجاه و سه.

یکی	ده‌تایی
۳	۵

۵۳ عددی است دو رقمی.



- $50+30$ را می‌توان گفت ۵ دسته‌ی ده‌تایی و ۳ دسته‌ی ده‌تایی که می‌شود ۸ دسته‌ی ده‌تایی یا ۸۰.
- برای حل مسئله می‌توان از ابزارهای مختلف مانند: انگشت، چینه، چوب‌خط، شکل یا جدول استفاده کرد.
- برای جمع کردن دو عدد دو رقمی ابتدا ده‌تایی‌ها و بعد یکی‌ها را با هم جمع می‌کنیم و حاصل آن را با استفاده از شکل یا جدول عددی ۱ تا ۱۰۰ به دست می‌آوریم.
- برای تفریق کردن دو عدد دو رقمی ابتدا ده‌تایی‌ها و بعد یکی‌ها را از هم کم می‌کنیم و باقی‌مانده را با کمک شکل و یا جدول ۱ تا ۱۰۰ به دست می‌آوریم.
- اگر بخواهیم اعداد دو رقمی که یکانشان از ۵ کم‌تر باشد به صورت تقریبی بنویسیم به صورت زیر عمل می‌کنیم: $23 \rightarrow 20$ $52 \rightarrow 50$
- و اگر بخواهیم اعداد دو رقمی که یکانشان از ۵ بیش‌تر یا مساوی ۵ باشد به صورت تقریبی بنویسیم به صورت زیر عمل می‌کنیم: $65 \rightarrow 70$ $86 \rightarrow 90$

علوم

- در یک گردش علمی نباید هر چیزی را ببوییم یا بچشیم زیرا بویدن و چشیدن بعضی از چیزها برای سلامتی ضرر دارد.
- به کمک یادداشت‌برداری می‌توانیم آن‌چه را که مشاهده می‌کنیم، دقیق بیان کنیم.
- در زمان ارائه گزارش باید از یادداشت‌های خویش استفاده نماییم و به حافظه‌ی خود اعتماد نکنیم.
- دود ماشین‌ها و کارخانه‌ها و ... باعث آلودگی هوا می‌شود و هوای آلوده باعث بیماری انسان‌ها و جانوران شده و نیز سبب از بین رفتن گیاهان می‌شود.
- با کاشتن درخت، انتقال کارخانه‌ها به خارج از شهر و ... می‌توان به حفظ هوای سالم کمک کرد.
- همگی جانداران برای زندگی و رشد به آب سالم نیاز دارند.
- در تصفیه‌خانه، آب رودخانه را به آب قابل آشامیدن تبدیل می‌کنند.
- انسان‌ها از آب برای شست‌وشو، آشامیدن، کشاورزی و ... استفاده می‌کنند.



۱. از میان کلمه‌های «گُلاه - نماینده - اشتباه - روزنامه - درخت» به چند تا کلمه می‌توانید (ای) اضافه کنید؟ آن‌ها را جدا کنید سپس به آن‌ها (ای) را اضافه کرده و برایشان جمله بنویسید.



..... :
 :

۲. جاهای خالی را با کلمه‌های مناسب پر کنید.

سارا در هر کاری نظم دارد، پس او یک دختر است.

سهند، در نوشتن تکالیف خود حوصله دارد، پس او یک پسر است.

سیرا می‌گوید: «پدر و مادر دو فرشته‌ی با ارزش هستند.» یعنی آن‌ها دارند.

۳. دسته بندی کنید.

نور - سرود - موسی - نانوا - مورد - بوی - خواب - روان - خورشید

..... صدای (او) می‌دهد.
 صدای (و) می‌دهد.
 صدایی ندارد.
 صدای (ا) می‌دهد.

۴. هم معنی کلمه‌هایی که زیر آن خط کشیده شده است را بنویسید.

خرس کوچولو عسل را با دست‌های گشیش خورد .

اگر اول از من می پرسیدی، به تو می‌گفتم .

۵. برای پاسخ زیر یک سؤال مناسب بنویسید.

سؤال:

پاسخ: چون میکروب‌ها باعث می‌شوند ما بیمار شویم.



۶. در آخر هر کدام از جمله‌های زیر از نشانه‌های (.) یا (?) استفاده کنید.

آیا همی کتاب‌ها برای ما مفید است

آموزگار پاسخ پرسش‌های دانش آموزان را داد

۷. با توجه به نمونه، کامل کنید.

هم + فکر ← هم فکر

..... + ← همسایه

..... ← هم دست



۸. کدام گزینه نادرست است؟

۱) برای جنگیدن با میکروب‌ها بهتر است همیشه خود را پاکیزه نگه داریم.

۲) میکروب‌ها موجودات خطرناکی هستند.

۳) به کسی که سواد ندارد باسواد می‌گوییم.



۹. برای تصویر مقابل سه جمله‌ی زیبا بنویسید.


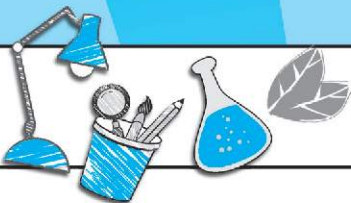


۱۰. جمله‌ی زیر را به صورت پرسشی بنویسید و به آن پاسخ مناسب بدهید.

❁ خرس کوچولو تصمیم گرفت با میکروب‌ها بجنگد.

پرسش :

پاسخ :



۱. با توجه به شکل زیر کدام جدول درست است ؟

ده تایی	یکی	۳
۲	۲	

ده تایی	یکی	۲
۲	۱	

ده تایی	یکی	۱
۱	۲	

۲. قبل از عددی که هلیا انتخاب کرده است، بزرگترین عدد یک رقمی قرار دارد. بعد از عدد هلیا، چه عددی قرار می گیرد؟

۱۱ (۳)

۹ (۲)

۱۰ (۱)

۳. با رقم های ۷ و ۰ و ۲ چند عدد دورقمی می توان نوشت ؟ آن ها را بنویسید .

.....

۴. محسن ۷۰ شاخه ی گل داشت و آن ها را به دسته های ۱۰ تایی تبدیل کرد. دیروز ۲ دسته از گل ها را به دوستش داد . هم اکنون چه مقدار گل برای او باقی مانده است؟

۵. علی امروز ۲۶ صفحه از کتاب داستان خود را خواند، اگر فردا هم ۳۵ صفحه ی دیگر از کتابش را بخواند، ۱۸ صفحه باقی می ماند. کتاب او چند صفحه دارد؟

۶. جواب جمع و تفریق ها را به صورت تقریبی به دست آورید.

$$\begin{array}{r} 63 \longrightarrow \dots\dots\dots \\ - 29 \longrightarrow - \dots\dots\dots \\ \hline \end{array}$$

$$\begin{array}{r} 46 \longrightarrow \dots\dots\dots \\ + 14 \longrightarrow + \dots\dots\dots \\ \hline \end{array}$$



۷. در هر کدام از شکل‌های زیر ساعت بین کدام دو عدد است؟



ساعت بین و است

ساعت بین و است

ساعت بین و است

۸. هر کدام از موارد زیر چه عددی را نشان می‌دهند؟



۴ دست‌های ۱۰ تایی و ۷ یکی :

۶ دست‌های ده‌تایی به‌اضافه‌ی ۳۰ یکی :

۲۰ یکی منهای ۱ دست‌های ده‌تایی :

۹. عددهای دو رقمی بین ۱۰ و ۴۰ را پیدا کنید که جمع رقم‌های آن‌ها برابر ۸ باشد.

۱۰. به تقویم نگاه کنید و بگویید هر ماه از فصل تابستان چند روز است؟

ده‌تایی	یکی

این عدد را در جدول ارزش مکانی نشان دهید.

❄ دو ماه اول تابستان (تیر و مرداد) روی هم چند روز می‌شوند؟

❄ کل فصل تابستان چند روز است؟

❄ این عدد برابر ده‌تایی و یکی است.



۱. انسان‌ها از آب استفاده‌های زیادی می‌کنند. مثل :

..... و و

۲. چه کارهایی هوا رو سالم پاکیزه نگه می‌دارد؟ (۳ مورد)

.....

۳. ما چگونه می‌توانیم به حفظ محیط زندگی جانداران کمک کنیم؟

.....

۴. نگین برگه‌ی یادداشت خود را گم کرده است اما صدف آن را همراه دارد. کدام یک می‌تواند مشاهدات خود را دقیق بیان کند. چرا؟

.....

۵. اگر بخواهید درباره‌ی یک گل به معلّم خود گزارش دهید. به ترتیب کدام کارها را انجام می‌دهید؟ (شماره بزنید)



۶. در یک گردش علمی قبل از چشیدن یا بوئیدن هر چیزی باید چه کار کنیم؟ چرا؟

.....



۷. مراحل کار در تصفیه‌خانه را بنویسید.



.....
.....
.....

۸. راه‌های صرفه‌جویی در مصرف آب را بنویسید. (۳ مورد)

.....

۹. شما در منزل خود برای مصرف درست آب ، چه کارهایی انجام می‌دهید؟ سه مورد

.....
.....
.....

۱۰. در محل زندگی شما آلودگی هوا یا آب ، چه تأثیری بر زندگی گیاهان ، جانوران و انسان‌ها داشته است؟ درباره‌ی این موضوع تحقیق کنید.

.....
.....
.....



فدا و حرف های من

به مادرم گفتم: «فکر می‌کنم خدا به حرف های من گوش نمی‌دهد.» مادرم خندید و پرسید: «از کجا می‌دانی گوش نمی‌دهد؟» گفتم: «هر چه دعا می‌کنم و آرزوهایم را می‌گویم، خدا به حرفم گوش نمی‌دهد، مادرم گفت: «خدا همیشه به حرف هایت گوش می‌دهد، اما تو فراموش می‌کنی.» پرسیدم: «چی را فراموش می‌کنم؟»

مادرم گفت: «تو آرزو کردی که حال پدر بزرگ خوب شود، پدر بزرگ خوب شد. آرزو کردی با ماشین دایی عباس به مسافرت برویم، رفتیم. آرزو کردی کفش کتانی سفید داشته باشی، حالا داری. هیچ وقت نگو خدا به حرف هایم گوش نمی‌دهد. خدا همه‌ی آرزوهایت را می‌داند، دعاهایت را می‌شنود و هرگز هیچ چیز را فراموش نمی‌کند. اما تو خودت آرزوهایت را فراموش می‌کنی.»

گفتم: «یک بار هم آرزو کردم مادر بزرگ شب خانگی ما بماند، او هم ماند.» مادرم مرا بوسید و گفت: «دیدی؟! حالا خوشحال باش و برای همه‌ی چیزهایی که داری خدا را شکر کن. آرزوهایت را به او بگو و صبر کن تا بر آورده شوند!»

مادرم درست می‌گوید، خدا همیشه به حرف های من گوش می‌کند. او مهربان است و مرا خیلی دوست دارد.

چه نتیجه‌ای از این داستان می‌گیری؟

